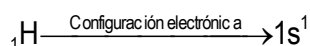


Boletín Enlace Químico III – 3º ESO


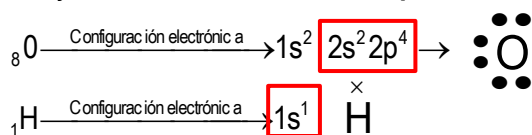
Estructura de Lewis. Pasos

- I. Hacer la configuración electrónica


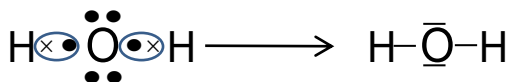
Ejemplo



- II. Dibujamos los electrones de la **capa de valencia**



- III. Hacemos la Estructura de Lewis



1. Representa la estructura de Lewis siguiendo los pasos del ejemplo anterior de :

a. Cl_2 b. H_2 c. Br_2 d. N_2

2. Representa la estructura de Lewis siguiendo los pasos del ejemplo anterior de :

a. HF b. H_2O c. NH_3 d. CH_4

3. Representa la estructura de Lewis siguiendo los pasos del ejemplo anterior de:

a. CO_2 b. HCN c. BH_3

4. Representa la estructura de Lewis siguiendo los pasos del ejemplo anterior de:

a. PF_3 b. PCl_5 c. CCl_4 d. CS_2